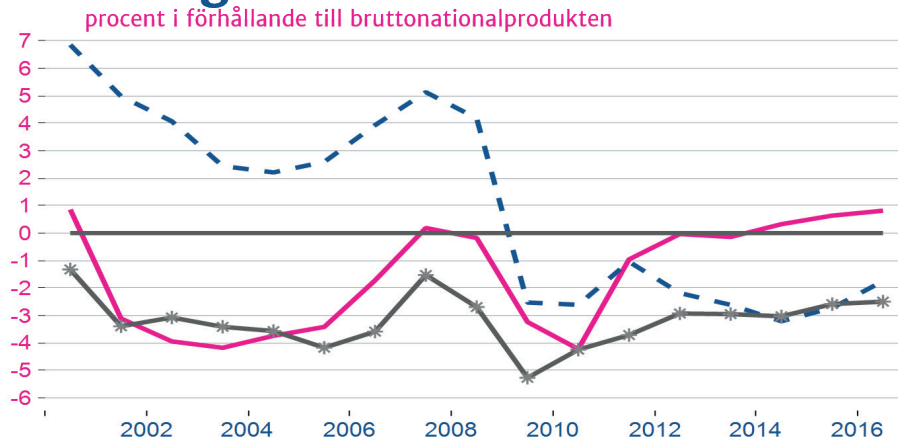




### Frågor

1. Kombinera rätt linje med rätt land i figuren (max 3 p)

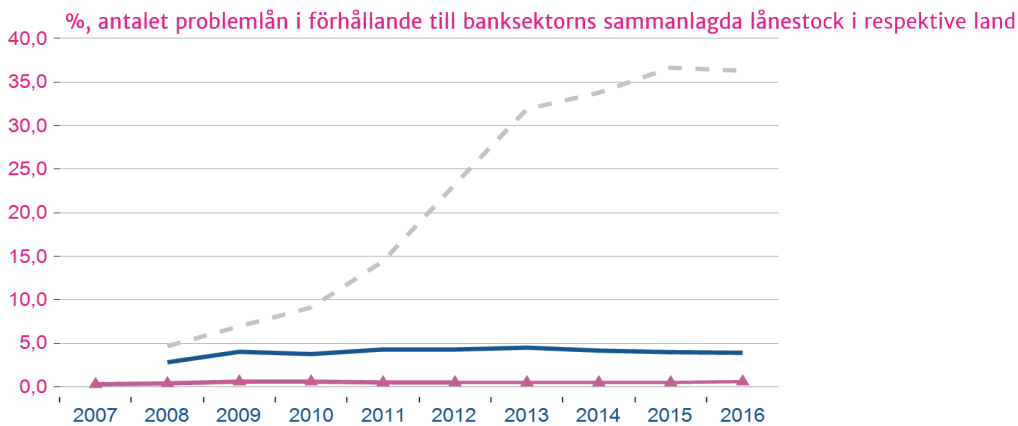
### Över- respektive underskott i den offentliga ekonomin



Källa: Macrobond/OECD

Blå streckad linje                      Tyskland  
Pink heldragen linje                  Finland  
Grå linje med stjärnor                Italien

### Problemlån\* i bankernas balansräkning i förhållande till lånestocken

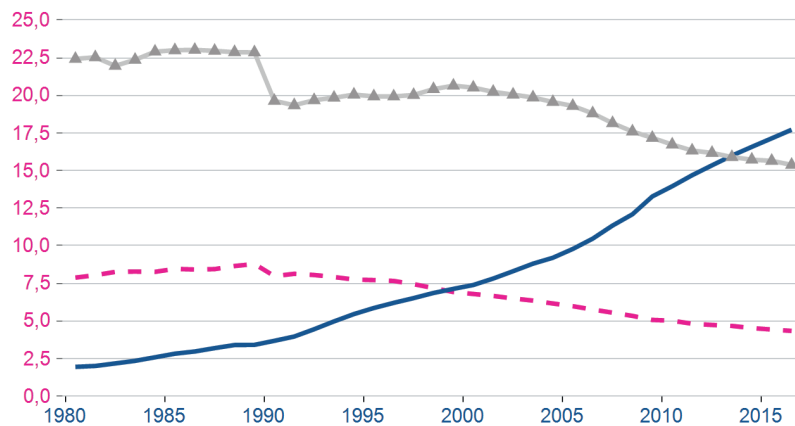


Källa: Macrobond/IMF

\* Med problemlån avses lån vars ränta eller kapital har varit obetalt i minst 90 dagar. Hit räknas också lån som sannolikt inte betalas tillbaka

Grå streckad linje                      Frankrike  
Blå heldragen linje                    Grekland  
Purpurfärgad linje med trianglar    Finland

## Ekonomins storlek\* i förhållande till världens sammanlagda bruttonationalprodukt



Källa: Macrobond/World Bank

\*Ekonomins storlek mäts med bruttonationalprodukten. Uppgifterna är köpkraftskorrigerade

Grå linje med trianglar	Japan
Pink streckad linje	Kina
Blå heldragen linje	USA

### 2. Definiera följande begrepp (max 6 p)

- Folkpension
- Grå ekonomi
- Snabblån (mikrolån)
- Gräsrotsfinansiering (crowdfunding)
- Livförsäkring
- Källskatt

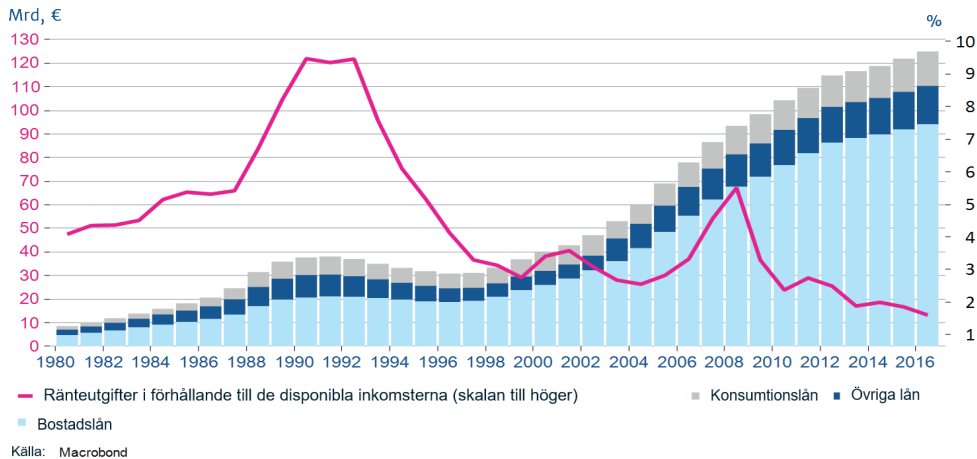
### 3. Skriv en kort essä om följande ämne: (max 6 p)

Betalningssätten förskjuts allt mer från kontanter till andra betalningssätt. Diskutera för- och nackdelar med de nya betalningssätten.

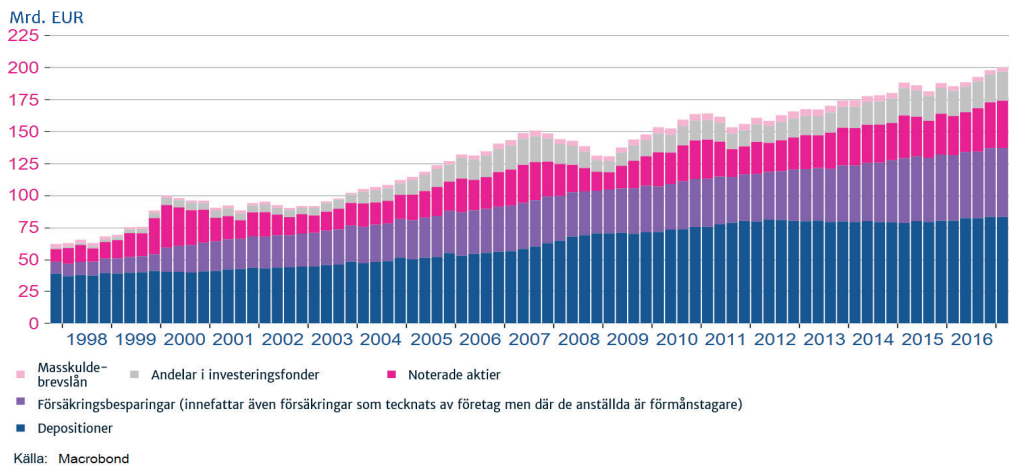
#### 4. Skriv en lång essä om följande ämne: (max 9 p)

Hushållens skuldsättning har diskuterats mycket i offentligheten på sista tiden. Granska med hjälp av figurerna här intill hur skuldsättningen, förmögenheten och bostadspriserna har utvecklats. Varför har skuldsättningen ökat? Vilka risker för det med sig? Hur kan man påverka skuldsättningen?

### Hushållens sammanlagda skuld och ränteutgifter för skulden



### Hushållens sammanlagda finansiella tillgångar



### Bostadsprisernas uveckling i Finland i förhållande till konsumentpriserna (realpriser)

