

För- och efternamn	Klass	Poäng _____ / 49 poäng
Skola och kommun		

.....

1. Ungdomar lär sig ofta hemma hur man använder pengar. Hur kan vårdnadshavare främja de finansiella kunskaperna hos sina barn? Skriv tre konkreta förslag nedan.

2. Du har fått ett sommarjobb. Du ska ha ett möte med din arbetsgivare. _____ / 3 poäng

a) Gör en lista på fyra saker, som du behöver komma överens om med din arbetsgivare.

b) Markera rätt alternativ med ett kryss. _____ / 4 poäng

	Arbetsavtal	Kollektivavtal
Överenskommelse mellan arbetstagaren och arbetsgivaren.	<input type="checkbox"/>	<input type="checkbox"/>
Man överenskommer om branschvisa minimikrav.	<input type="checkbox"/>	<input type="checkbox"/>
Avtal om tidsbunden eller tillsvidare anställning.	<input type="checkbox"/>	<input type="checkbox"/>
Nationellt och tidsbundet avtal.	<input type="checkbox"/>	<input type="checkbox"/>

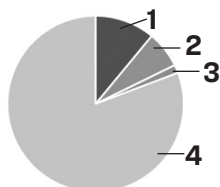
_____ / 2 poäng

3. Thomas är en 19-årig närvårdare, som har en årlig bruttolön på 26 000 €.

a) Vad avses med bruttolön?

b) Vad avses med nettolön? _____ / 1 poäng

c) Markera de gällande skatterna och avgifterna av skattekaraktär, vilka avdras från Thomas lön. _____ / 1 poäng



Nettolön =

Skatt på inkomstens förvärvande =

Pensionsförsäkringsavgift =

Arbetslöshetsavgift =

_____ / 2 poäng

d) Thomas går till affären och köper tränings skor. Hur många procent av skornas pris är mervärdesskatt?

Markera det rätta alternativet med en cirkel. _____ / 1 poäng

0 %

10 %

14 %

24 %

e) Thomas får börsaktier till ett värde av 10 000 euro i arv av sin gudfar.

Markera det rätta alternativet med en cirkel. _____ / 1 poäng

0€

700€

1000€

3300€

4. I ekonomiska tidskrifter publiceras tabeller i likhet med denna, vilka anknyter till börsaktier.

Namn	Senaste	Förändring	Förändring i %	Tid	P/E	Dividend	Volym	Antal
NORDEA BANK ABP	7,96€	-0,03	-0,41%	10:48	10,12	8,97	4 milj. €	514 779
STORA ENSO OYJ R	12,030€	-0,10	-0,82%	10:48	9,40	4,16	4 milj. €	297 798
NOKIA CORPORATION	5,366€	-0,01	-0,26%	10:48	-	3,75	4 milj. €	670 416
FORTUM CORPORATION	19,30€	-0,14	-0,72%	10:48	20,31	5,70	3 milj. €	153 718

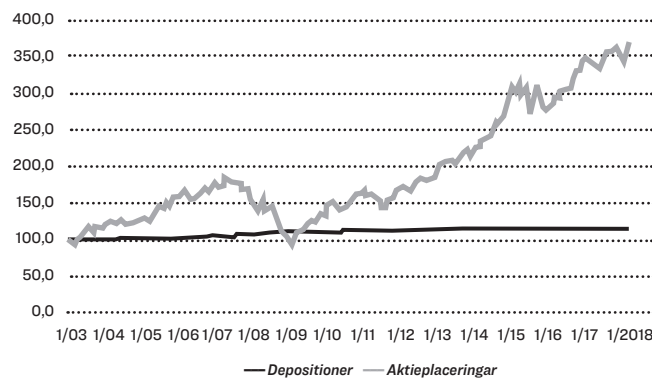
<https://www.is.fi/taloussanomat/porssi/> från 7.3.2019

Granska denna tabell och bevara frågorna. Vad betyder

- a) namn _____ / 1 poäng
- b) förändring i % _____ / 1 poäng
- c) dividend _____ / 1 poäng

d) Av grafen nedan framgår värdeutvecklingen för depositioner och aktieplaceringar under en längre tidsperiod. Hur motiverar du rekommendationerna för placeringsobjekten, om målet är att

Värdeutvecklingen för aktieplaceringar och depositioner.



Spara till en utlandsresa om ett år?

_____ / 2 poäng

Spara till pensioneringen om 40 år?

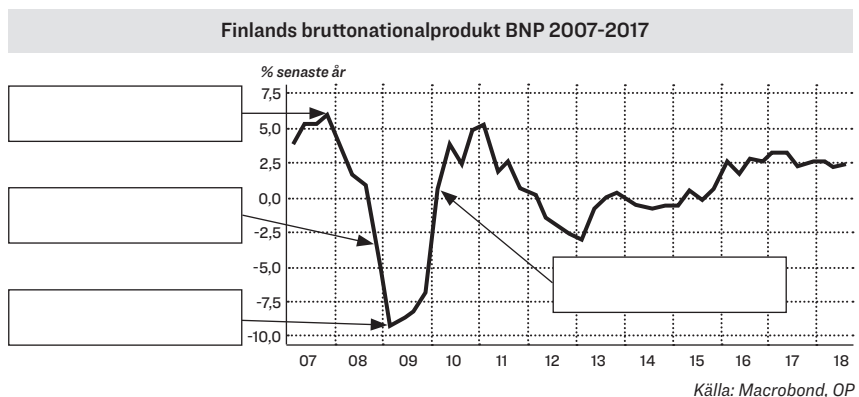
_____ / 2 poäng

5. Studera Finlands bruttonationalprodukt under åren 2007-2017 i grafen nedan och besvara frågorna.

a) Ange de ekonomiska konjunktur-växlingarna i figuren. _____ / 2 poäng

b) Vad mäter BNP?

_____ / 1 poäng



Källa: Macrobond, OP

c) Vilka problem finns det med BNP som ekonomisk indikator?

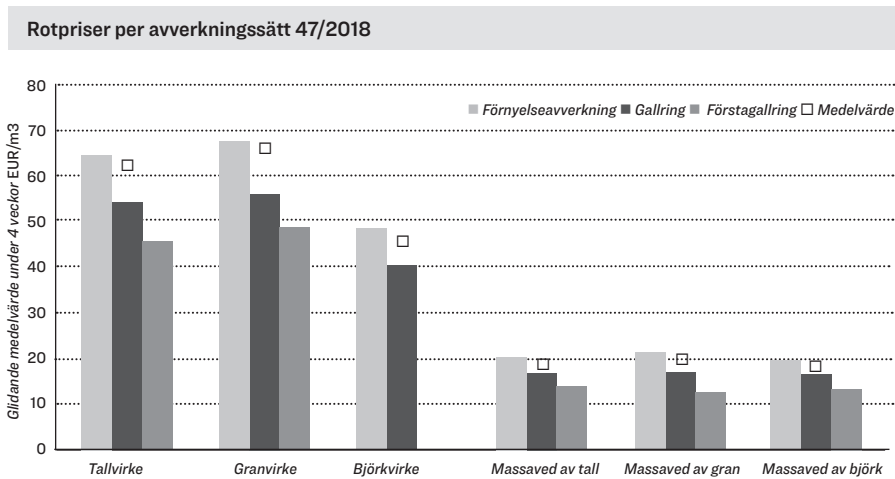
_____ / 2 poäng

d) Välj en konjunkturväxling ur figuren. Skriv den här _____

Redogör för konjunkturväxlingen du valt. Ange två effekter av denna på Finlands nationalekonomi?

_____ / 2 poäng

6. Grafen framgår rotpriserna för olika virkesslag genom varierande avverkningsätt.



a) Vilket är kubikmeterpriset för avverkning av tallvirke i samband med förnyelseavverkning vecka 47?

_____ / 1 poäng

b) Året 2018 var ett bra år för skogsindustrin. Nämna två orsaker till att det för tillfället går bra för skogsindustrin.

_____ / 2 poäng

c) Ange fyra finländska produkter från skogsindustrin.

_____ / 2 poäng

7. "Supercell Oy är ett finländskt företag som utvecklar datorspel. År 2015 uppkom företagets omsättning av dessa tre spel: bondgårdsspelet Hay Day samt strategispelen Clash of Clans och Boom Beach. Företaget blev år 2015 tack vare dessa globalt sett det mest produktiva mobilspelsföretaget. Clash Royale lanserades i mars 2016, då företaget även informerade om att företagets spel för första gången översteg 100 miljoner-gränsen för dagliga spelare" Källa: Wikipedia (2019): Supercell. <https://fi.wikipedia.org/wiki/Supercell>

Supercells omsättning grundar sig på mikrobetalningar, som spelare av ett spel betalar under spelet.

a) Hur mycket skulle Supercell förtjäna per dag, om alla spelare i mars 2016 betalade 10 cent per dag?

Markera det rätta svaret med en cirkel.

_____ / 1 poäng

över 100 000 euro

över 10 miljoner euro

över 100 miljoner euro

b) Med vilka andra medel kan spelföretag förtjäna pengar?

_____ / 2 poäng

c) Supercell använde i februari 2015 ca 8 milj. euro till en paus reklam på ungefär en minut i samband med det stora amerikanska sportevenemanget Super Bowl. Varför lönade det sig för företaget att använda så mycket pengar på en reklam?

_____ / 2 poäng

