


Ekonomiguru 2024

Inledande tävling den 10 januari 2024 kl 9-11

1. Identifieringsuppgift

(2 p/rätt namn och titel, max. 10 p)

Bilderna föreställer fem personer som är förknippade med ekonomin. Skriv varje persons namn och titel. I ordmolnet finns både rätta och falska namn och titlar.











2. Flervalsuppgift

(2 p/rätt alternativ, max. 8 p)

Svara på frågorna. Vilket alternativ är rätt?

- Vilket slags låneamorteringssätt är annuitet?
 - Den inbördes relationen mellan amortering och ränta i betalningsraten ändras när lånets referensränta ändras. När räntan stiger blir också betalningsraten större och när räntan sjunker blir betalningsraten mindre. Lånetiden förblir oförändrad.
 - Låneamorteringen är alltid lika stor, men betalningsratens storlek varierar enligt räntan: Om referensräntan stiger, stiger också betalningarna; om referensräntan sjunker, sjunker betalningarna. Lånetiden förblir oförändrad.
 - Alla betalningsrater är lika stora. Om referensräntan stiger blir lånetiden längre, och om referensräntan sjunker blir lånetiden kortare.
 - Lånekapitalet återbetalas på en gång, och före det betalar man bara ränta.

- Du är på väg till affären. På din hemgata råkar du stöta till grannens bil och backspejeln lossnar från bilen. Vilken försäkring kan ersätta skadan?
 - Din olycksfallsförsäkring för fritiden
 - Den obligatoriska trafikförsäkringen för grannens bil
 - Ansvarsförsäkringen i din hemförsäkring
 - Din reseförsäkring

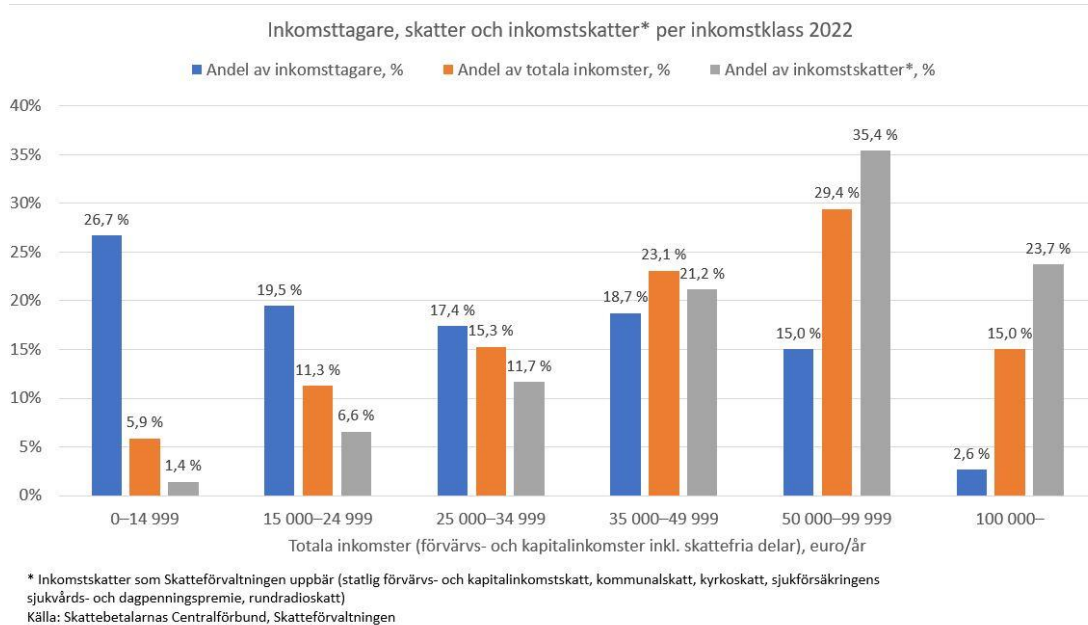
- Ränteberäkningsuppgift: Du gör en tidsbunden insättning på tusen euro för tre månader. Årsräntan är 4 %. Hur mycket avkastning får du på din insättning före skatt?
 - 100 euro
 - 40 euro
 - 10 euro
 - 0 euro

- Hur stora är de genomsnittliga totalinkomsterna för heltidsarbetande löntagare i Finland år 2021?
 - 2 274 euro
 - 3 734 euro
 - 4 803 euro
 - 5 374 euro

3. Inkomstfördelningen och beskattningen

(4 p/rätt omnämnande, max 12 p)

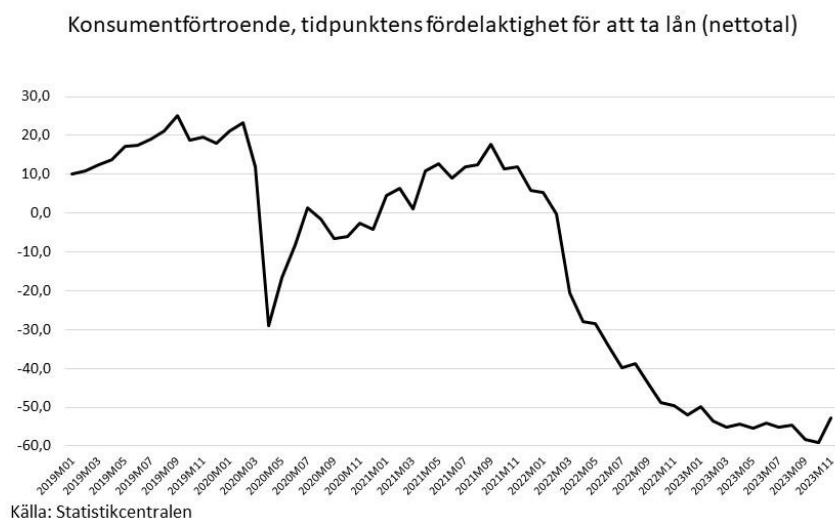
Berätta vad bilden nedan berättar om inkomstfördelningen och beskattningen i Finland. Nämn tre saker. Ditt svar kan vara högst 1 000 tecken långt.



4. Konsumentförtroende

(3 p/rätt omnämnande, max. 9 p)

Grafen anger hur fördelaktigt konsumenter har ansett att det är att ta lån på senare år. Berätta vilka faktorer som har påverkat. Nämn tre saker. Ditt svar kan vara högst 1 000 tecken långt.



*Ju högre netttotal, desto fördelaktigare anser konsumenterna att tidpunkten är för att ta lån

5. Essäfråga

(max. 25 p)

Finlands befolkning åldras och barnafödandet minskar. Utvärdera vad detta betyder ur nationalekonomins och statsfinansernas perspektiv.